

êxito
Questões

PRODUTO DIGITAL

Caderno de Questões Gabaritadas



**AMOSTRA
GRÁTIS**

MAGEM ILUSTRATIVA

Língua Portuguesa

Língua Inglesa

Matemática

Atualidades do Mercado Financeiro

Conhecimentos específicos



www.exitoquestoes.com.br

Sumário

LÍNGUA PORTUGUESA.....	2
LÍNGUA INGLESA.....	8
MATEMÁTICA.....	12
ATUALIDADES DO MERCADO FINANCEIRO.....	16
CONHECIMENTOS ESPECÍFICOS.....	21
MATEMÁTICA FINANCEIRA.....	21

@exito - questoes

LÍNGUA PORTUGUESA

“Guerra” virtual pela informação

A internet quebrou a rígida centralização no fluxo mundial de dados, criando uma situação inédita na história recente. As principais potências econômicas e militares do planeta decidiram partir para a ação ao perceberem que seus segredos começam a ser divulgados com facilidade e frequência nunca vistas antes.

As mais recentes iniciativas no terreno da espionagem virtual mostram que o essencial é o controle da informação disponível no mundo - não mais guardar segredos, mas saber o que os outros sabem ou podem vir a saber. Os estrategistas em guerra cibernética sabem que a possibilidade de vazamentos de informações sigilosas é cada vez maior e eles tendem a se tornar rotineiros.

A datificação, processo de transformação em dados de tudo o que conhecemos, aumentou de forma vertiginosa o acervo mundial de informações. Diariamente circulam na web pouco mais de 1,8 mil petabytes de dados (um petabyte equivale a 1,04 milhão de gigabytes), dos quais é possível monitorar apenas 29 petabytes.

Pode parecer muito pouco, mas é um volume equivalente a 400 vezes o total de páginas web indexadas diariamente pelo Google e 156 vezes o total de vídeos adicionados ao YouTube a cada 24 horas.

Como não é viável exercer um controle material sobre o fluxo de dados na internet, os centros mundiais de poder optaram pelo desenvolvimento de uma batalha pela informação. O manejo dos grandes dados permite estabelecer correlações entre fatos, dados e eventos, com amplitude e rapidez impossíveis de serem alcançados até agora.

Como tudo o que fazemos diariamente é transformado em dados pelo nosso banco, pelo correio eletrônico, pelo Facebook, pelo cartão de crédito etc., já somos passíveis de monitoração em tempo real, em caráter permanente. São esses dados que alimentam os softwares analíticos que produzem correlações que servem de base para decisões estratégicas.

CASTILHO, Carlos. *Observatório da imprensa*. 21/08/2013.

Disponível em: <<http://observatoriodaimprensa.com.br/codigo-aberto/quando-saber-o-que-os-espies-sabem-gera-uma-guerra-virtual-pela-informacao/>> Acesso em: 29 fev. 2018. Adaptado.

01 Obedecem às regras ortográficas da língua portuguesa as palavras

- a) admissão, paralisção, impasse
- b) bambusal, autorização, inspiração
- c) consessão, extresse, enxaqueca
- d) banalização, reexame, desenlace
- e) desorganização, abstração, cassação

02 Em conformidade com o Acordo Ortográfico da Língua Portuguesa vigente, atendem às regras de acentuação todas as palavras em:

- a) andróide, odisseia, residência

- b) arguição, refém, mausoléu
- c) desbloqueio, pêlo, escarcéu
- d) feiúra, enjoo, maniqueísmo
- e) sutil, assembléia, arremesso

03 A forma verbal destacada atende às exigências da norma -padrão da língua portuguesa em:

- a) Ao digitar as senhas em público, é necessário que confiremos se há pessoas estranhas nos observando para garantir a segurança virtual.
- b) As informações pessoais deveriam ser digitadas de forma condensada para que cabessem todas no espaço próprio do questionário socioeconômico.
- c) Os meios eletrônicos contribuem para que os estudantes retenham a maior parte das informações necessárias ao bom desempenho escolar.
- d) Para evitar a espionagem virtual é preciso que nós não consintemos na utilização dos nossos dados pessoais ao instalar novos aplicativos no celular.
- e) Quando algum consumidor querer comprar o último modelo de smartphone, pode agredir outros componentes da fila para tomar seu lugar.

04 No trecho “A datificação, processo de transformação em dados de tudo o que conhecemos, aumentou de forma vertiginosa o acervo mundial de informações”, a palavra que apresenta o sentido contrário ao de vertiginosa é

- a) hesitante
- b) indecisa
- c) perplexa
- d) vacilante
- e) vagarosa

05 No trecho “Como tudo o que fazemos diariamente é transformado em dados pelo nosso banco, pelo correio eletrônico, pelo Facebook, pelo cartão de crédito, etc., já somos passíveis de monitoração em tempo real, em caráter permanente”, a palavra monitoração pode ser substituída, sem prejuízo do sentido, por

- a) comprovação
- b) demonstração
- c) esclarecimento
- d) rastreamento
- e) recuperação

06 De acordo com a norma-padrão da língua portuguesa, o uso do sinal indicativo da crase é obrigatório na palavra destacada em:

- a) A solução para o analfabetismo tecnológico é a garantia de acesso de todas as crianças a utilização efetiva de meios digitais de comunicação.

- b) A utilização de celulares com recursos de navegação na internet vem facilitando a alfabetização tecnológica de idosos e moradores de zonas rurais.
- c) As escolas precisam possibilitar a crianças de todas as origens socioculturais a utilização plena dos recursos computacionais no processo de aprendizagem.
- d) O analfabetismo tecnológico corresponde a uma efetiva exclusão digital, já que impede as pessoas de usufruírem dos benefícios da tecnologia.
- e) Os países desenvolvidos atingiram a meta de universalizar a utilização de meios digitais para garantir a ampliação do processo de conhecimento.

07 A concordância do adjetivo destacado foi realizada de acordo com as exigências da norma-padrão da língua portuguesa em:

- a) A espionagem virtual e a ausência de punição dos responsáveis são corriqueiros na batalha virtual entre as grandes potências mundiais.
- b) A guerra cibernética entre os países e o manejo de grandes quantidades de dados são básicas para determinar as relações de poder no futuro.
- c) O acolhimento dos refugiados e a redução das desigualdades são necessárias para diminuir os conflitos de interesse entre países ricos e pobres.
- d) Os e-mails e as conversas virtuais são monitorados permanentemente em todo o mundo para revelar importantes segredos de estado.
- e) Os softwares contra vírus e a atualização regular dos aplicativos são obrigatórias para a manutenção dos celulares em bom funcionamento.

08 A concordância da forma verbal destacada foi realizada de acordo com as exigências da norma-padrão da língua portuguesa em:

- a) Com o crescimento da espionagem virtual, é necessário que se promova novos estudos sobre mecanismos de proteção mais eficazes.
- b) O rastreamento permanente das invasões cibernéticas de grande porte permite que se suspeitem dos hackers responsáveis.
- c) Para atender às demandas dos usuários de celulares, é preciso que se destinem à pesquisa tecnológica muitos milhões de dólares.
- d) Para detectar as consequências mais prejudiciais da guerra virtual pela informação, necessitam-se de estudos mais aprofundados.
- e) Se o crescimento das redes sociais assumir uma proporção incontrolável, é aconselhável que se estabeleça novas restrições de utilização pelos jovens.

09 O trecho que explica os objetivos da “guerra” virtual descrita no texto é

- a) “A internet quebrou a rígida centralização no fluxo mundial de dados, criando uma situação inédita na história recente”
- b) “As mais recentes iniciativas no terreno da espionagem virtual mostram que o essencial é o controle da informação disponível no mundo - não mais guardar segredos, mas saber o que os outros sabem ou podem vir a saber”

- c) “A datificação, processo de transformação em dados de tudo o que conhecemos, aumentou de forma vertiginosa o acervo mundial de informações.”
- d) “Diariamente circulam na web pouco mais de 1,8 mil petabytes de dados (um petabyte equivale a 1,04 milhão de gigabytes), dos quais é possível monitorar apenas 29 petabytes.”
- e) “Pode parecer muito pouco, mas é um volume equivalente a 400 vezes o total de páginas web indexadas diariamente”

10 De acordo com o texto, o que viabiliza a espionagem virtual é a(o)

- a) capacitação de especialistas para a criação de máquinas velozes.
- b) centralização do fluxo mundial de dados pelas grandes potências.
- c) criação de sites de entretenimento para a atração dos internautas.
- d) datificação de todas as informações geradas pelas pessoas na internet.
- e) emprego de softwares que possam capturar as senhas dos usuários.

Mobilidade e acessibilidade desafiam cidades

A população do mundo chegou, em 2011, à marca oficial de 7 bilhões de pessoas. Desse total, parte cada vez maior vive nas cidades: em 2010, esse contingente superou os 50% dos habitantes do planeta, e até 2050 prevê-se que mais de dois terços da população mundial será urbana.

No Brasil, a população urbana já representa 84,4% do total, de acordo com o Censo 2010. É preciso, então, que questões de mobilidade e acessibilidade urbana passem a ser discutidas.

No passado, a noção de mobilidade era estreitamente ligada ao automóvel. Hoje, como resultado, os moradores de grande maioria das cidades brasileiras lidam diariamente com congestionamentos insuportáveis, que causam enormes perdas. Isso, sem falar no alto índice de mortes em vias urbanas do país. Depreendemos daí que a dependência do automóvel como meio de transporte é um fator que impede a mobilidade urbana.

É importante investir em infraestrutura pedestre, cicloviária e em sistemas mais eficazes e adequados de ônibus. Ao mesmo tempo, podemos desenvolver cidades mais acessíveis, onde a maior parte dos serviços esteja próxima às moradias e haja opções de transporte não motorizado para nos locomovermos.

BROADUS, V. Portal Mobilize Brasil. 16 jul. 2012. Disponível em: <<http://www.mobilize.org.br/noticias/2419/mobilidade-acessibilidade-e-deficiencias-fisicas.html>>. Acesso em: 9 jul. 2018. Adaptado.

Glossário:

Mobilidade urbana – É a facilidade de locomoção das entre as diferentes zonas de uma cidade.

Acessibilidade urbana – É a garantia de condições às pessoas portadoras de deficiência ou com mobilidade reduzida.

11 O grupo em que as duas palavras estão grafadas de acordo com a norma-padrão da língua portuguesa é

- a) beleza, querozene

- b) burguesia, esquisito
- c) cortesia, pesquisa
- d) improviso, análise
- e) represa, paralisia

12 A palavra destacada está grafada de acordo com as exigências da norma-padrão da língua portuguesa em:

- a) As cidades mais populosas têm estimulado, há alguns anos, novos hábitos de vida para melhorar a mobilidade.
- b) O aumento do número de carros, verificado a algum tempo, tem causado grandes transtornos às populações urbanas.
- c) O conceito das pessoas sobre conforto, bem-estar e sustentabilidade vai modificar-se daqui há algumas gerações.
- d) O debate sobre a questão da mobilidade urbana intensifica-se há cada dia, mas ainda está muito longe de se esgotar.
- e) Os habitantes da periferia dos grandes centros estão a tempos esperando soluções para seus problemas de transporte.

13 No trecho “é um fator que impede a mobilidade urbana”, o verbo que expressa o sentido contrário ao da palavra destacada é

- a) fechar
- b) prender
- c) facilitar
- d) atrapalhar
- e) interromper

14 A vírgula está empregada de acordo com a norma-padrão da língua portuguesa em:

- a) A acessibilidade é a possibilidade que as pessoas, têm de atingir o destino desejado.
- b) A mobilidade urbana tem, forte impacto, sobre o espaço e os recursos naturais.
- c) As políticas públicas, devem priorizar os meios de transporte coletivo, nas cidades.
- d) Como alertam os pesquisadores, é preciso discutir estratégias de mobilidade urbana.
- e) Nos últimos anos aumentou, a insatisfação das pessoas com os engarrafamentos.

15 De acordo com a norma-padrão da língua portuguesa, o acento grave indicativo da crase é obrigatório na palavra destacada em:

- a) A falta de transporte coletivo traz problemas para as pessoas que vivem na periferia.
- b) O centro das cidades foi o primeiro espaço a sofrer com o aumento dos carros.
- c) O automóvel acabou por se confirmar como a forma de transporte dominante.

d) Os espaços centrais passaram a ser ocupados somente nos horários de trabalho.

e) Os governos devem buscar soluções adequadas as necessidades das pessoas.

16 A concordância da palavra destacada atende às exigências da norma-padrão da língua portuguesa em:

a) A poluição e as dificuldades de circulação devem ser evitados, principalmente nos centros urbanos.

b) As moradias e a localização do trabalho deveriam ser mais próximos para garantir melhores condições de vida.

c) Os problemas e as soluções relativas à mobilidade urbana precisam ser discutidos pelas autoridades.

d) Os espaços para pedestres e as ciclovias precisam ser compartilhadas pelas pessoas nas calçadas.

e) Os transportes coletivos e as condições de acessibilidade ainda são precárias nas cidades brasileiras.

17 No segundo parágrafo, o texto defende a necessidade de discutir questões relativas à mobilidade urbana.

Antes disso, o texto refere-se à

a) ampliação da população urbana mundial

b) diminuição da distância entre casa e trabalho

c) imobilidade urbana causada pelo automóvel

d) importância do investimento em infraestrutura

e) paralisação do trânsito das grandes cidades

18 O quarto parágrafo do texto aborda

a) a frequência dos congestionamentos

b) as propostas de melhoria da mobilidade

c) o aumento da população mundial

d) o índice de mortes nas vias urbanas

e) os problemas de mobilidade no Brasil

19 No trecho “É preciso, então, que questões de mobilidade e acessibilidade urbana passem a ser discutidas”, a palavra destacada pode ser substituída, sem prejuízo do

sentido, por

a) embora

b) para que

c) porque

d) portanto

e) se bem que

20 No trecho “Depreendemos daí que a dependência do automóvel como meio de transporte é um fator que impede”, a palavra em destaque pode ser substituída, sem

prejuízo do sentido, por

- a) Aprendemos
- b) Concluímos
- c) Destacamos
- d) Discutimos
- e) Prevemos

GABARITOS PORTUGUÊS

01	02	03	04	05	06	07	08	09	10
A	B	C	E	D	A	D	C	B	D
11	12	13	14	15	16	17	18	19	20
E	A	C	D	E	C	A	B	D	B

LÍNGUA INGLESA

Robots, the next generation of soccer players

If you think a robot will steal your job, you are not alone. Soccer players should be worried too. The next Messi probably won't be of flesh and blood but plastic and metal.

The concept emerged during the conference “Workshop on grand challenges in artificial intelligence,” held in Tokyo in 1992, and independently, in 1993, when Professor Alan Mackworth from the University of Bristol in Canada described an experiment with small soccer players in a scientific article.

Over 40 teams already participated in the first RoboCup tournament in 1997, and the competition is held every year. The RoboCup Federation wants to play and win a game against a real-world cup humans' team by 2050.

The idea behind artificially intelligent players is to investigate how robots perceive motion and communicate with each other. Physical abilities like walking, running, and kicking the ball while maintaining balance are crucial to improving robots for other tasks like rescue, home, industry, and education.

Designing robots for sports requires much more than experts in state-of-the-art technology. Humans and machines do not share the same skills. Engineers need to impose limitations on soccer robots to imitate soccer players as much as possible and ensure following the game's rules.

RoboCup Soccer Federation, the “FIFA” of robots, which supports five leagues, imposes restrictions on players' design and rules of the game. Each has its own robot design and game rules to give room for different scientific goals. The number of players, their size, the ball type, and the field dimensions are different for each league.

In the humanoid league the players are humanlike robots with human-like senses. However, they are rather slow. Many of the skills needed to fully recreate actual soccer player movements are still in the early stages of research.

The game becomes exciting for middle and small size leagues. The models are much simpler; they are just boxes with a cyclopean eye. Their design focuses on team behavior: recognizing an opponent, cooperating with team members, receiving and giving a standard FIFA size ball.

Today, soccer robots are entirely autonomous. They wireless “talk” to each other, make decisions regarding strategy in real-time, replace an “injured” player, and shoot goals. The only person in a RoboCup game is the referee. The team coaches are engineers in charge of training the RoboCups’ artificial intelligence for fair play: the robots don’t smash against each other or pull their shirts.

The next RoboCup competition will soon be played, virtually, with rules that will allow teams to participate without establishing physical contact.

Available at: <<https://www.ua-magazine.com/2021/05/12/robots-the-next-generation-of-soccer-players>>. Retrieved on: July 4th, 2021.

Adapted.

01 In the text fragment of the sixth paragraph “RoboCup Soccer Federation, the “FIFA” of robots, which supports five leagues, imposes restrictions on players’ design and rules of the game”, the word which refers to

- a) game
- b) FIFA
- c) players
- d) leagues
- e) RoboCup Soccer Federation

02 In paragraph 7, the word However in the fragment “In the humanoid league, the players are human-like robots with human-like senses. However, they are rather slow” can be replaced, without change in meaning, by

- a) unless
- b) indeed
- c) furthermore
- d) nevertheless
- e) consequently

03 According to the second paragraph, the concept of robotic soccer players emerged

- a) in 1997
- b) in the 1990s
- c) before the 1990s
- d) in the beginning of the 20th century
- e) in the beginning of the 21st century

04 In paragraph 9, there is the information that in RoboCup competitions the game referee and the team coaches are

- a) humanoids
- b) computers
- c) real people
- d) robotic engineers
- e) virtual mechanisms

05 In the sentence fragment of the fifth paragraph “Designing robots for sports requires much more than experts in state-of-the-art technology”, the words in bold can be replaced, without any change in meaning, by the following words:

- a) drawing / scholars
- b) creating / amateurs
- c) planning / specialists
- d) finishing / professionals
- e) manufacturing / engineers

Revolution Accelerated

How Digital Transformation is Shaping the Future of Banking

Like all businesses, banks have had to act fast to respond to the unprecedented human and economic impact of Covid-19.

First, they needed to keep the lights on and ensure business continuity. Second, they had to meet the changing ways customers wanted to engage. Finally, they sought to balance their business priorities with a responsibility to support society. Previous crises cast the banks as part of the problem — this time they are part of the solution.

Banks who have embraced modern banking technology have fared better in meeting these challenges. They’ve moved seamlessly to remote working, kept up service for their customers, coped with huge increases in demand and quickly adapted their products. In contrast, banks using legacy ‘spaghetti’ software have struggled.

Covid-19 has accelerated the need for modern banking technology, but it didn’t create it. Before coronavirus, the 2020s were already being framed as the decade for digital in the banking industry. Banks’ return on equity were too low and their cost-income ratios were too high. Meanwhile, regulation like open banking was disrupting the industry and increasing competition from new entrants like the GAAFAs (Google, Amazon, Alibaba, Facebook, Apple).

Providing seamless digital customer experiences was therefore already a ‘must’. Every year, Temenos partners with the Economist Intelligence Unit (EIU) for a global study on the future of banking. More than 300 banking leaders are interviewed from retail, commercial and private banks. Over half of these are at C-suite level.

In 2020, the study took place amid the Covid-19 crisis. The results give a fascinating insight into banking leaders' approach during these unprecedented times. But they also show how they see their industry in the years to come.

And the findings suggest three trends which will shape the future of banking:

1. New technologies will be the key driver of banking transformation over the next 5 years. 77% of respondents strongly believed that Artificial Intelligence (AI) will be the most game-changing of these technologies. They see a diverse range of uses for AI — from personalised customer experience to fraud detection.
2. Banks will overhaul their business models to create digital ecosystems. 80% of respondents believe that banking will become part of a platform of services. 45% are committed to transforming their business models into digital ecosystems.
3. The sun will set on branch banking. World Bank data shows that visits to branches have been steadily declining globally over the last decade. As a result of coronavirus, customers are now more concerned about visiting their branch, and so even more people are willing to try digital applications. This combination of pandemic and increasingly transformative advanced technology has led a majority of respondents (59%) to our survey with the EIU to state that traditional branch-based banking model will be dead in just five years. That's a 34% increase from last year.

The current environment is undoubtedly challenging for banks. But they have the capital, customer relationships and customer data. They are regulated. And most importantly: they still enjoy their customers' trust.

In short, banks are best-placed to succeed if they commit to end-to-end digital transformation. That means a fully digital front office which creates hyper-personalized experiences and ecosystems. And a back office driving efficient operations and rapid innovation. By embracing modern banking technology, banks can support their customers today, create new value for the future and drive new levels of future growth.

Available at: <<https://www.cnbc.com/advertorial/how-digital-transformation-is-shaping-the-future-of-banking>>. Retrieved on: July 13th, 2021. Adapted.

06 In paragraph 6, the personal pronoun they, used twice in the sentence “But they also show how they see their industry in the years to come”, refers to the following fragment at the same paragraph:

- a) the study
- b) the results
- c) banking leaders
- d) Covid-19 crisis
- e) unprecedented times

07 In the sentence of the last paragraph “In short, banks are best-placed to succeed if they commit to end-to-end digital transformation”, the phrase In short conveys an idea of

- a) cause
- b) addition

- c) emphasis
- d) conclusion
- e) time sequence

08 The overall purpose of the text is

- a) to explain how the banking industry works.
- b) to discuss the impact of the coronavirus pandemic on the health system.
- c) to launch new investment opportunities in the banking industry.
- d) to state that digital transformation in banking has been accelerated by the coronavirus pandemic.
- e) to promote new AI technology that will change the future of banking.

12

09 According to the 2nd paragraph of the text, after the Covid-19 outbreak, banks initially had to face the following number of challenges:

- a) 1
- b) 2
- c) 3
- d) 4
- e) 5

10 From the sentence of the last paragraph, “By embracing modern banking technology, banks can support their customers today, create new value for the future and drive new levels of future growth”, it is inferred that

- a) banks cannot grow after the coronavirus pandemic.
- b) modern banking technology can help reshape the present and the future of banks.
- c) modern technology can frustrate the present and the future of the banking industry.
- d) as result of the coronavirus pandemic, banks will not be able to meet customers’ demands in the future.
- e) due to the coronavirus pandemic, banks are not able to meet customers’ expectations in the present.

GABARITOS LÍNGUA INGLESA

01	02	03	04	05	06	07	08	09	10
E	D	B	C	C	B	D	D	C	B

MATEMÁTICA

01 Em uma gincana escolar, uma turma foi pesquisada, por dois grupos concorrentes, sobre as idades de seus estudantes. Um dos grupos constatou que 78% dos estudantes dessa turma têm, pelo menos, 15 anos; outro grupo concluiu que, nessa mesma turma, 34% dos estudantes têm, no máximo, 15 anos.

Com base nessas pesquisas, qual o percentual de estudantes, dessa turma, com exatamente 15 anos?

- a) 44%
- b) 63%
- c) 49%
- d) 22%
- e) 12%

02 Dois conjuntos não vazios A e B são tais que:

- $A \cup B = \{3,4,6,7,9\}$;
- $A \cap B = \{4,7\}$

O conjunto $(A - B) \cup (B - A)$

é igual a

- a) \mathbb{N}
- b) $\{3,4,6,7,9\}$
- c) $\{3,6,9\}$
- d) $\{4,7\}$
- e) \emptyset

03 Antes de iniciar uma campanha publicitária, um banco fez uma pesquisa, entrevistando 1000 de seus clientes, sobre a intenção de adesão aos seus dois novos produtos.

Dos clientes entrevistados, 430 disseram que não tinham interesse em nenhum dos dois produtos, 270 mostraram-se interessados no primeiro produto, e 400 mostraram-se interessados no segundo produto.

Qual a porcentagem do total de clientes entrevistados que se mostrou interessada em ambos os produtos?

- a) 10%
- b) 15%
- c) 20%
- d) 25%
- e) 30%

04 Um banco está selecionando um novo escriturário e recebeu um total de 50 currículos. Para o exercício desse cargo, três habilidades foram especificadas: comunicação,

relacionamento interpessoal e conhecimento técnico. As seguintes características foram detectadas entre os candidatos a essa vaga:


- 15 apresentavam habilidade de comunicação;

- 18 apresentavam habilidade de relacionamento interpessoal;
- 25 apresentavam conhecimento técnico;
- Seis apresentavam habilidade de relacionamento interpessoal e de comunicação;
- Oito apresentavam habilidade de relacionamento interpessoal e conhecimento técnico;
- Dois candidatos apresentavam todas as habilidades;
- Oito candidatos não apresentavam nenhuma das habilidades.

Com base nessas informações, qual o número total de candidatos que apresentam apenas uma das três habilidades apontadas?

- 28
- 38
- 21
- 13
- 15

05 Um jogo de estratégia é jogado por dois jogadores num tabuleiro quadriculado com 10 linhas e 10 colunas, conforme a Figura a seguir.



Cada jogador recebe 16 fichas que devem ser colocadas nas casas do tabuleiro e, após a colocação de todas as fichas de ambos os jogadores, um jogador é sorteado para colocar uma peça especial em qualquer uma das casas não ocupadas.

Quantas são as casas não ocupadas nas quais o jogador escolhido pode colocar a peça especial?

- 78
- 72
- 68
- 64


e) 62

06 A capacidade máxima de carga de um caminhão é de 2,670 toneladas (t). Duas cargas de grãos estão destinadas a esse caminhão: a primeira, de 2,500 t e, a segunda de 0,720 t.

A soma das massas das duas cargas destinadas ao caminhão excede a sua capacidade máxima em

- a) 0,100 t
- b) 0,550 t
- c) 0,593 t
- d) 1,450 t
- e) 1,648 t

07 Pouca gente sabe, mas uma volta completa no planeta Terra, no perímetro do Equador, corresponde a cerca de 40.000 km.



Observe, na imagem, a quilometragem indicada no hodômetro de um veículo.

Considerando-se os dados do texto e a imagem acima, quantos quilômetros esse veículo ainda terá que percorrer para completar o equivalente a três voltas no perímetro do Equador da Terra?

- a) 51.308
- b) 38.602
- c) 31.308
- d) 28.692
- e) 28.620

08 Com os elementos de $A = \{1, 2, 3, 4, 5, 6\}$, podemos montar numerais de 3 algarismos distintos.

Quantos desses numerais representam números múltiplos de 4?

- a) 16
- b) 20
- c) 24
- d) 28
- e) 32

09 Sejam a , b e c números reais tais que $a \neq 0$ e $a < b < c$.

É necessariamente verdadeiro que

- a) $a \cdot b < b \cdot c$
- b) $b - a < c - b$
- c) $\frac{b}{a} < \frac{c}{a}$
- d) $a \cdot b < a \cdot c$
- e) $a + b < a + c$

10 Considere o conjunto A cujos 5 elementos são números inteiros, e o conjunto B formado por todos os possíveis produtos de três elementos de A .

Se $B = \{-30, -20, -12, 0, 30\}$, qual o valor da soma de todos os elementos de A ?

- a) 5
- b) 3
- c) 12
- d) 8
- e) -12

GABARITOS MATEMÁTICA

01	02	03	04	05	06	07	08	09	10
E	C	A	A	C	B	D	E	E	D

ATUALIDADES DO MERCADO FINANCEIRO

01 As iniciativas de inovação no mercado financeiro são fortemente influenciadas pelo desenvolvimento de novas tecnologias. O surgimento das criptomoedas corrobora esta conclusão. Neste sentido, informe a seguir a sentença que melhor se enquadra nos conceitos relacionados a este fenômeno:

- a) Uma das principais características das criptomoedas é a centralização da emissão, através de unidades de liquidação e controle de transações denominadas blockchain.
- b) Seguindo o entendimento proposto pelo Banco Central do Brasil, criptomoedas e moedas eletrônicas são sinônimos, tendo sua previsão disciplinada pela Lei nº 12.865, de 9 de outubro de 2013.
- c) Uma criptomoeda é um ativo digital denominado na própria unidade de conta que é emitido e transacionado de modo descentralizado, independente de registro ou validação por parte de intermediários centrais, com validade e integridade de dados assegurada por tecnologia criptográfica e de consenso em rede.
- d) Como qualquer outro ativo, as criptomoedas dependem de um sistema de intermediação financeira para que as transações pertinentes sejam processadas, garantindo-lhes verossimilhança.
- e) As criptomoedas são os únicos ativos digitais em circulação no mercado financeiro atual.

02 Sobre as características do mercado bancário na Era Digital, assinale a alternativa ERRADA:

- a) No campo da tecnologia, o mercado bancário tem revelado forte tendência de investimentos nas áreas de inteligência artificial, segurança cibernética e trabalho remoto.
- b) Ferramentas de treinamento a distância têm-se destacado no mercado bancário, em função de sua abrangência e menor custo relativo.
- c) Canais físicos têm perdido espaço para outras formas de interação com o público, mesmo no tocante a transações bancárias mais complexas.
- d) Canais digitais concentram a imensa maioria das transações realizadas na rede bancária.
- e) O arranjo de pagamentos Pix tem ganhado espaço sobre opções tradicionais de transferências bancárias, como TED e DOC.

03 Analise as sentenças a seguir:

- () No ano de 2020, o setor bancário foi fortemente impactado pela crise econômica decorrente da COVID-19. Tal fato corrobora a redução dos investimentos em tecnologia, justificada pela redução das receitas.
- () Nos últimos anos, as tecnologias disruptivas têm ganhado prioridade nos investimentos em TI, principalmente no tocante à inteligência artificial, automação robótica de processos para operações de backoffice e internet das coisas (IOT).
- () A inteligência artificial centrada no atendimento ao cliente continuam na pauta dos investimentos em tecnologias disruptivas, mas os processos operacionais como crédito e jurídico, também passaram a ganhar maior prioridade.

Informe a sequência CORRETA:

- a) F – F – V.
- b) V – V – F.
- c) F – F – F.
- d) F – V – V.
- e) V – F – V.

04 Analise as sentenças a seguir:

- () O mercado tem apontado forte tendência à adoção da virtualização do modelo de trabalho, e este caminho tem sido adotado também pelas instituições financeiras bancárias.
- () A virtualização dos processos bancários é realidade irrefutável, e a maior tendência diz respeito às transações realizadas via mobile banking.
- () Nas agências, as transações mais complexas apresentam crescimento, como renegociações e câmbio, enquanto as transações simples continuam migrando para os canais digitais.

Informe a sequência CORRETA:

- a) F – F – F.
- b) V – V – F.
- c) V – V – V.

d) F – F – V.

e) F – V – V.

05 Saem as portas giratórias e as filas intermináveis e entra um espaço totalmente digital onde você pode transacionar seu dinheiro de onde e como quiser. Este é o cenário perfeito que almejamos há algum tempo e estamos diante dele. Mas ainda há muito a se fazer para melhorar a experiência do consumidor nesse ambiente virtual.

Há anos já falamos sobre as tecnologias que possibilitam pagamento por aproximação, as criptomoedas, o blockchain e agora já estamos vivendo a realidade do Pix e o open banking, uma verdadeira revolução no sistema bancário. A tecnologia nos permite, hoje, não precisar sair de casa, entrar em uma fila, falar com o gerente e realizar uma transação.

É claro que a digitalização no setor foi impulsionada pela crise da pandemia, mas ela já vinha acontecendo de maneira tímida há alguns anos. Só para ter uma ideia, em julho de 2018, já existiam 2,88 milhões de contas bancárias 100% digitais no Brasil, segundo dados da Febraban. O mesmo levantamento ainda mostrava que a maior parte delas foi aberta pelos celulares (1,6 milhão, em 2017), o que representa um aumento de impressionantes 171% em relação ao ano anterior.

Fonte: Digitalização dos bancos: quais são as tendências e os desafios? Por Alessandra Montini, em Noomis CIAB FEBRABAN, 2021.

Sobre o processo de digitalização dos bancos, assinale a alternativa CORRETA:

a) O processo de transição, do modelo bancário tradicional para a nova dinâmica proposta pelo modelo virtualizado, não encontrou grandes barreiras para sua implementação ou aceitação pelo público destas instituições.

b) Uma das principais áreas que requerem investimentos por parte das instituições financeiras, neste processo de digitalização bancária, são as ferramentas de cibersegurança.

c) A implementação de uma tecnologia de dados não tem apresentado impactos relevantes sobre a digitalização bancária, motivo pelo qual muitos dos processos encontram-se ainda na seara das agências físicas.

d) As tecnologias desenvolvidas pelas instituições bancárias, voltadas à interação virtual, são integralmente seguras e isentas de investidas de criminosos.

e) A digitalização dos bancos é um processo lento, complexo, e no mercado brasileiro ainda se encontra em estágio inicial de implementação.

06 Uma sociedade cada vez mais pautada pelo mundo digital demanda processos mais ágeis e cada vez mais inovadores. No caso dos bancos, essa evolução exige vultosos investimentos em equipes especializadas, soluções originais e produtos inovadores, não só para agilizar e melhorar o atendimento, mas também para alcançar maior eficiência no relacionamento com o consumidor. Nada disso é possível, porém, sem modificações e a modernização de leis e normas que regem o sistema financeiro nacional.

Fonte: Leis, regras e normas em tempos de bancos digitais. Por Gustavo Fosse, em Noomis CIAB FEBRABAN, 2018.

Assinale a alternativa ERRADA sobre a modernização do arcabouço normativo brasileiro frente ao novo contexto do setor bancário na era digital:

a) A modernização de leis aprimora o modelo de relacionamento do Banco Central com o Tesouro Nacional e proporciona maior segurança jurídica às atribuições do BC, ainda que não guarde relação com o arcabouço normativo orientado às melhores práticas internacionais, visto tender a preservar o mercado interno em detrimento ao externo.

- b) A modernização da legislação no setor bancário é um dos pilares da Agenda BC+, do Bacen, criada para aumentar a eficiência do País em matéria financeira e reduzir o custo do crédito.
- c) A Lei 13.709/2020, denominada Nova Lei Geral de Proteção de Dados Pessoais, que segue os moldes do Regulamento Geral sobre a Proteção de Dados (ou General Data Protection Regulation – GDPR), gerou impactos significativos sobre as práticas do mercado financeiro brasileiro.
- d) A modificação da estrutura do Bacen, promovida através da edição da Lei Complementar nº 179/2021, segue a tendência mundial de promoção da autonomia da autoridade monetária nacional.
- e) O Conselho Monetário Nacional tem exercido ativamente seu papel de regulador do Sistema Financeiro Nacional, acompanhando as tendências de atualização da base normativa do mercado e promovendo o ganho de eficiência decorrente de práticas inovadoras.

07 Julgue o item abaixo de acordo com os seus conhecimentos sobre as atualidades, tendências e desafios dos bancos na "Era Digital".

Um dos grandes desafios das instituições bancárias que tentam se enquadrar cada vez mais no ambiente online é levar para o mundo digital um público avesso à tecnologia.

08 Julgue o item abaixo de acordo com os seus conhecimentos sobre as atualidades, tendências e desafios dos bancos na "Era Digital".

A preocupação em ir até a agência acontece quando a tecnologia oferece uma boa experiência e confiança para o cliente.

09 Julgue o item abaixo de acordo com os seus conhecimentos sobre as atualidades, tendências e desafios dos bancos na "Era Digital".

No âmbito dos sistemas on line de atendimento bancário, a inteligência de dados pode propiciar uma série de recursos como aumentar o limite do cartão de crédito, entender o que realmente o cliente precisa e analisar o seu perfil, cruzando dados e informações de maneira rápida e organizada.

10 Julgue o item abaixo de acordo com os seus conhecimentos sobre as atualidades, tendências e desafios dos bancos na "Era Digital".

Uma das prioridades das instituições bancárias ao virar a chave do banco offline para o online é a segurança. Isso requer um investimento pesado em ferramentas tecnológicas, principalmente em cibersegurança, mesmo sendo o ambiente online isento de invasões de criminosos.

11 Julgue o item abaixo de acordo com os seus conhecimentos sobre as atualidades, tendências e desafios dos bancos na "Era Digital".

As instituições bancárias têm investido em inteligência artificial para lidar com crimes cibernéticos. A tecnologia permite o processamento e a análise de um grande volume de dados complexos em processos críticos, tudo isso com muita rapidez. Desta forma, as instituições são capazes de otimizar a identificação de ameaças.

12 Julgue o item abaixo de acordo com os seus conhecimentos sobre as atualidades, tendências e desafios dos bancos na "Era Digital".

Segundo a Febraban, houve um aumento de 72% em investimentos relacionados à inteligência artificial (IA) nas instituições financeiras do Brasil em 2019, e os gastos em 2020 do setor em tecnologia chegaram a R\$ 25,7 bilhões, montante 8% superior ao registrado em 2019.

13 Julgue o item abaixo de acordo com os seus conhecimentos sobre as atualidades, tendências e desafios dos bancos na "Era Digital".

A partir do isolamento social causada pela pandemia do Coronavírus e com as medidas implementadas a partir do mesmo, a mobilidade se consolidou como o principal meio para operar as finanças.

14 Julgue o item abaixo de acordo com os seus conhecimentos sobre as atualidades, tendências e desafios dos bancos na "Era Digital".

De acordo com estudos atuais, o ano de 2020 antecipou tendências tecnológicas e mudanças no comportamento dos consumidores, cada vez mais digitais.

15 Julgue o item abaixo de acordo com os seus conhecimentos sobre as atualidades, tendências e desafios dos bancos na "Era Digital".

Os avanços em tecnologia do setor bancário bem como a contínua inovação são os atributos que garantem ao setor reação rápida a demandas de mercado. Porém, com o enfrentamento da pandemia do novo coronavírus e diante da crise econômica causada, os investimentos em tecnologia bancária diminuíram.

16 Julgue o item abaixo de acordo com os seus conhecimentos sobre as atualidades, tendências e desafios dos bancos na "Era Digital".

Não pode ser considerado indicador de sucesso do setor financeiro a rápida adesão dos consumidores aos canais digitais.

17 Julgue o item abaixo de acordo com os seus conhecimentos sobre as atualidades, tendências e desafios dos bancos na "Era Digital".

A segurança de informação bem como a capacitação e o treinamento são destaques e prioridades nos orçamentos de investimentos das instituições bancárias que objetivam o desenvolvimento da internet banking.

18 Julgue o item abaixo de acordo com os seus conhecimentos sobre as atualidades, tendências e desafios dos bancos na "Era Digital".

De acordo com pesquisas produzidas no último biênio, o celular se tornou o canal favorito dos brasileiros para pagar contas, fazer transferências, contratar crédito e as demais operações bancárias, porém, as transações realizadas no mobile banking ainda representam menos da metade do total das operações feitas no país.

19 Julgue o item abaixo de acordo com os seus conhecimentos sobre as atualidades, tendências e desafios dos bancos na "Era Digital".

A inovação tecnológica nos serviços financeiros, não gera benefícios diretos para a estabilidade financeira.

20 Julgue o item abaixo de acordo com os seus conhecimentos sobre as atualidades, tendências e desafios dos bancos na "Era Digital".

GABARITOS ATUALIDADES DO MERCADO FINANCEIRO

01	02	03	04	05	06	07	08	09	10
C	C	D	C	B	A	C	E	C	E
11	12	13	14	15	16	17	18	19	20

CONHECIMENTOS ESPECÍFICOS

MATEMÁTICA FINANCEIRA

01 Um negociador de investimentos de uma instituição financeira pergunta ao gerente de tal instituição qual a taxa de juros anual máxima que pode oferecer a um cliente investidor, e o gerente afirma que ficará satisfeito com uma taxa anual máxima de 8,36%. O negociador entra em contato com o cliente que pretende investir um capital C_1 e diz que, ao final de um ano, ele receberá C_2 , que corresponde a C_1 acrescido de 5,00% de juros, mas não tem sucesso nessa negociação inicial. O negociador resolve aplicar uma nova taxa sobre C_2 , mas sem ultrapassar a taxa anual máxima que está autorizado a oferecer.

Qual o valor máximo da taxa a ser aplicada sobre C_2 ?

- a) 2,16%
- b) 2,24%
- c) 3,20%
- d) 7,96%
- e) 16,72%

02 Devido às oscilações de receita em seu negócio durante a pandemia, um cliente vai precisar pagar um boleto, cujo principal (até a data de vencimento) é de R\$ 25.000,00, com 12 dias de atraso. Nesse caso, são cobrados adicionalmente, sobre o valor do principal, dois encargos: 2% de multa, mais juros simples de 0,2% ao dia. Por causa dos juros altos, o cliente procurou seu gerente, que não conseguiu uma solução menos custosa.

Com isso, nas condições dadas, o cliente deverá pagar nessa operação um valor total de

- a) R\$ 25.600,00
- b) R\$ 25.800,00
- c) R\$ 26.100,00
- d) R\$ 26.300,00
- e) R\$ 26.500,00

03 No boleto bancário da sua prestação, uma pessoa leu que é cobrada uma multa de 1,2% por dia de atraso sobre o valor da prestação, condicionada a atrasos não maiores que 30 dias. Em certo mês, essa pessoa pagou uma prestação com atraso, tendo de desembolsar R\$ 233,20 em vez dos R\$ 220,00 normalmente pagos nos meses em que não houve atraso no pagamento.

Por quantos dias ela atrasou a prestação nesse mês?

- a) 5
- b) 10
- c) 15
- d) 20

e) 25

04 Um banco fez um empréstimo de R\$10.000,00 a um cliente, pelo prazo de um mês, cobrando o valor de R\$ 100,00 a título de juros.

Qual foi a taxa de juros que o banco cobrou do cliente?

- a) 0,01 ao mês
- b) 10% ao ano
- c) 1% ao ano
- d) 0,1 ao mês
- e) 0,05 ao mês

05 Uma pessoa está planejando comprar uma geladeira no valor de R\$1.300,00, no futuro.

Sabendo-se que ela pretende gastar exatamente esse valor e que dispõe de um capital de R\$1.000,00, que será aplicado no dia de hoje a uma taxa de juros simples de 1,5% ao mês, qual será o prazo dessa aplicação, em meses, para que ela consiga comprar a geladeira à vista, o mais rápido possível?

- a) 2
- b) 16
- c) 20
- d) 50
- e) 200

06 Qual é a taxa de juros simples utilizada por uma aplicação para tornar um capital inicial de R\$1.000,00 em um montante de R\$1.240,00, em um período de um ano?

- a) 0,02 ao mês
- b) 0,02% ao mês
- c) 0,02 ao ano
- d) 0,02% ao ano
- e) 0,24% ao ano

07 Um cliente pagou, via internet banking, quatro duplicatas vencidas com exatamente 12 dias de atraso, cujos valores de face são de R\$4.200,00; R\$3.800,00; R\$2.600,00 e R\$7.400,00. Nesse caso, para pagamentos até 30 dias após o vencimento, são cobrados juros simples à taxa de 6% ao mês, mais uma multa de 2% sobre o valor de face de cada duplicata.

Considerando-se o mês comercial (30 dias), o valor total pago, em reais, por essas quatro duplicatas vencidas foi de

- a) 18.432,00
- b) 18.792,00
- c) 18.872,00

- d) 18.912,00
- e) 18.982,00

08 Aldo aplicou R\$ 7.000,00 por um tempo numa caderneta de poupança e recebeu um total de R\$ 1.750,00 de juros. No mesmo dia em que Aldo fez a aplicação, Baldo aplicou, na mesma poupança, uma certa quantia que rendeu R\$ 1.375,00 de juros no mesmo período de tempo da aplicação de Aldo.

Quanto, em reais, Baldo aplicou na poupança?

- a) 5.500
- b) 5.000
- c) 6.500
- d) 6.000
- e) 4.500

09 Uma empresa toma um empréstimo de R\$ 200.000,00, por 20 dias, a uma determinada taxa de juro, no regime de simples. Considere que, ao final desse período, os juros pagos são de R\$ 8.800,00.

Assim, a taxa mensal de juro simples cobrada nesse empréstimo, considerando o mês com 30 dias, foi igual a

- a) 4,0%
- b) 4,4%
- c) 6,0%
- d) 6,6%
- e) 8,8%

10 Um comprador tem duas opções de pagamento: pagar à vista, com desconto de 20% sobre o preço de tabela ou a prazo, um mês após a data da compra, com um acréscimo de 10% sobre o preço de tabela.

O valor mais próximo da taxa de juro mensal cobrada nessa operação, comparando-se o valor a ser pago, por um mesmo produto, em cada uma das opções apresentadas, é igual a

- a) 10%
- b) 22%
- c) 30%
- d) 33%
- e) 38%

11 Considere que hoje é uma segunda-feira e um carnê de pagamentos apresenta um vencimento em atraso desde a última terça-feira, para um valor de R\$ 100,00, e ainda prevê multa de 2%, e mora de 12% a.m.

O valor a pagar, em reais, é de

- a) 104,40

- b) 114,00
- c) 104,00
- d) 103,60
- e) 104,45

12 As operadoras de cartões de crédito, em geral, cobram 12% ao mês por atrasos no pagamento. No caso de atrasos superiores a 1 mês, o sistema utilizado é o de juros compostos e, no caso de atrasos inferiores a 1 mês, utiliza-se o sistema de juros simples. O vencimento da fatura de um cliente é no dia 5, mas ele só receberá o pagamento de seu salário no dia 15 do mesmo mês, quando, então, fará o pagamento da fatura com atraso de 10 dias.

Se a fatura desse cliente é de R\$ 900,00, quanto ele pagará, em reais, de juros?

- a) 108
- b) 72
- c) 36
- d) 18
- e) 12

13 Paulo aplicou R\$ 10.000,00 em um fundo de investimentos que rendeu juros de 6% em um ano. Ao término desse ano, Paulo manteve aplicados tanto os R\$ 10.000,00 quanto os juros obtidos nesse primeiro ano e, ainda, aplicou mais R\$ 4.400,00. Ele deixou seu dinheiro investido por mais um ano e, ao final desses dois anos, seu saldo (valor aplicado mais juros) foi de R\$ 16.050,00.

Sabendo-se que, ao longo desses dois anos, Paulo não fez qualquer retirada, qual foi a taxa anual de juros no segundo ano?

- a) 5%
- b) 6%
- c) 7%
- d) 8%
- e) 9%

14 Maurício concordou em emprestar R\$ 240,00 a Flávio, desde que este lhe pagasse juros simples de 4% ao mês. Flávio aceitou as condições de Maurício, pegou o dinheiro emprestado e, ao final de três meses, pagou ao amigo os R\$ 240,00 e os juros combinados.

Qual foi o valor pago por Flávio?

- a) R\$ 244,00
- b) R\$ 249,60
- c) R\$ 252,00
- d) R\$ 260,40
- e) R\$ 268,80

15 Sebastião emprestou R\$300,00 para Carlos, mas cobrou juros simples de 5% ao mês. Carlos quitou a dívida (R\$ 300,00 + juros) depois de quatro meses.

Quanto Carlos pagou de juros?

- a) R\$ 15,00
- b) R\$ 60,00
- c) R\$ 75,00
- d) R\$ 90,00
- e) R\$ 150,00

16 Com o objetivo de aguardar o momento de investir em um imóvel para ampliação dos negócios, a empresa X&X aplicou o valor de R\$ 1.200.000,00, a juros simples de 1,5% a.m., durante três meses.

Qual o montante do valor aplicado, em reais, ao final do segundo mês?

- a) 1.254.000,00
- b) 1.236.000,00
- c) 54.000,00
- d) 36.000,00
- e) 18.000,00

17 Uma empresa concede a seu funcionário um empréstimo no valor de R\$ 2.500,00, que seria pago mediante desconto em folha de pagamento, em cinco parcelas iguais, a juros simples de 1% a.m.

Qual será o total dos juros pagos, em reais, após a quitação do empréstimo?

- a) 25,00
- b) 100,00
- c) 101,51
- d) 125,00
- e) 127,53

18 Um corretor de imóveis recebe o valor de R\$ 500.000,00 em comissões e resolve aplicá-lo por dois meses, a juros simples de 2,5% a. m.

O valor do montante ao final do terceiro mês, caso ele resolva estender aplicação por mais um mês, será, em reais, de

- a) 25.000,00
- b) 37.500,00
- c) 512.500,00
- d) 525.000,00
- e) 537.500,00

19 Após 2 meses, resgatou-se um valor de R\$ 1.350,00.

Sabendo-se que o valor do principal era de R\$ 1.000,00, qual a taxa de juros simples ao mês?

- a) 0,58%
- b) 8,75%
- c) 17,5%
- d) 35%
- e) 38%

26

20 Uma pessoa tinha R\$ 12.000,00 e investiu R\$ 4.000,00 a 5,2% de juros ao ano. Além disso, investiu R\$6.000,00 a 6,2% ao ano.

A quantos por cento ao ano essa pessoa deve investir o restante do dinheiro para obter, no total dos investimentos de um ano, juros de R\$ 700,00?

- a) 6
- b) 5,8
- c) 4,8
- d) 3
- e) 2

GABARITOS CONHECIMENTOS ESPECÍFICOS

01	02	03	04	05	06	07	08	09	10
C	C	A	A	C	A	B	A	D	E
11	12	13	14	15	16	17	18	19	20










CONHEÇA ALGUNS DOS APROVADOS ÊXITO QUESTÕES



<p>APROVADOS COM ÊXITO</p> <p>LUCAS SILVA DO AMARAL 1º lugar professor de matemática Prefeitura de Bom Conselho-PE</p>  <p>“ Não importe o quão lento você vá, desde de que você NÃO PARE! ” -Confissão</p> <p>www. exitoquesto es.com.br</p>	<p>APROVADOS COM ÊXITO</p> <p>NADIA BALTAZAR DA SILVA 2º lugar professor de português Prefeitura de Bom Conselho-PE</p>  <p>“ Não importe o quão lento você vá, desde de que você NÃO PARE! ” -Confissão</p> <p>www. exitoquesto es.com.br</p>	<p>APROVADOS COM ÊXITO</p> <p>MARIA LAISLLA CAVALCANTE 4º lugar professor de anos iniciais Prefeitura de Bom Conselho-PE</p>  <p>“ Não importe o quão lento você vá, desde de que você NÃO PARE! ” -Confissão</p> <p>www. exitoquesto es.com.br</p>
<p>APROVADOS COM ÊXITO</p> <p>Istaine Santos de Melo 5º lugar técnico em enfermagem Prefeitura de Bom Conselho-PE</p>  <p>“ Não importe o quão lento você vá, desde de que você NÃO PARE! ” -Confissão</p> <p>www. exitoquesto es.com.br</p>	<p>APROVADOS COM ÊXITO</p> <p>Edivado Gomes 1º lugar Fiscal geral Prefeitura de Jupi - PE.</p>  <p>“ O ponto de partida de todos os conquistados é o desejo. ” -Confissão</p> <p>www. exitoquesto es.com.br</p>	<p>APROVADOS COM ÊXITO</p> <p>Ana Maria 3º lugar Professora de Educação Infantil Prefeitura de Jupi - PE.</p>  <p>“ O ponto de partida de todos os conquistados é o desejo. ” -Confissão</p> <p>www. exitoquesto es.com.br</p>
<p>APROVADOS COM ÊXITO</p> <p>Dyeggo Páblo 4º lugar Vigilante Prefeitura de Jupi - PE.</p>  <p>“ O ponto de partida de todos os conquistados é o desejo. ” -Confissão</p> <p>www. exitoquesto es.com.br</p>	<p>APROVADOS COM ÊXITO</p> <p>Patricia Lima 4º lugar Auxiliar de Sala Prefeitura de Jupi - PE.</p>  <p>“ O ponto de partida de todos os conquistados é o desejo. ” -Confissão</p> <p>www. exitoquesto es.com.br</p>	<p>APROVADOS COM ÊXITO</p> <p>Victor Santos 5º lugar Motorista Prefeitura de Jupi - PE.</p>  <p>“ O ponto de partida de todos os conquistados é o desejo. ” -Confissão</p> <p>www. exitoquesto es.com.br</p>

CONHEÇA ALGUNS DOS APROVADOS ÊXITO QUESTÕES



<p>APROVADOS COM ÊXITO CONCURSO SEDUC PE</p>  <p>Jaqueline Leandro 1º lugar</p> <p>PROFESSORA DE LÍNGUA PORTUGUESA QUE SÉTIMO ANO/II</p> <p>www.exitoquestoes.com.br</p>	<p>APROVADOS COM ÊXITO CONCURSO SEDUC PE</p>  <p>Artur Gonçalves 1º lugar</p> <p>PROFESSOR DE LÍNGUA PORTUGUESA QUE SÉTIMO ANO/II</p> <p>www.exitoquestoes.com.br</p>	<p>APROVADOS COM ÊXITO CONCURSO SEDUC PE</p>  <p>Dayse Alexandre 1º lugar</p> <p>PROFESSORA DE LÍNGUA PORTUGUESA QUE SÉTIMO ANO/II</p> <p>www.exitoquestoes.com.br</p>
<p>APROVADOS COM ÊXITO CONCURSO SEDUC PE</p>  <p>Aucione de Souza 1º lugar</p> <p>PROFESSORA DE LÍNGUA PORTUGUESA QUE SÉTIMO ANO/II</p> <p>www.exitoquestoes.com.br</p>	<p>APROVADOS COM ÊXITO CONCURSO SEDUC PE</p>  <p>Dario Cesar 1º lugar</p> <p>PROFESSOR DE LÍNGUA PORTUGUESA QUE SÉTIMO ANO/II</p> <p>www.exitoquestoes.com.br</p>	<p>APROVADOS COM ÊXITO CONCURSO SEDUC PE</p>  <p>Alvaro Cesar 1º lugar</p> <p>PROFESSOR DE LÍNGUA PORTUGUESA QUE SÉTIMO ANO/II</p> <p>www.exitoquestoes.com.br</p>
<p>APROVADOS COM ÊXITO CONCURSO SEDUC PE</p>  <p>José Arnaldo 2º lugar</p> <p>PROFESSOR DE LÍNGUA PORTUGUESA QUE SÉTIMO ANO/II</p> <p>www.exitoquestoes.com.br</p>	<p>APROVADOS COM ÊXITO CONCURSO SEDUC PE</p>  <p>Juscelino Sobral 2º lugar</p> <p>PROFESSOR DE LÍNGUA PORTUGUESA QUE SÉTIMO ANO/II</p> <p>www.exitoquestoes.com.br</p>	<p>APROVADOS COM ÊXITO CONCURSO SEDUC PE</p>  <p>Glaudemir Santos 3º lugar</p> <p>PROFESSOR DE LÍNGUA PORTUGUESA QUE SÉTIMO ANO/II</p> <p>www.exitoquestoes.com.br</p>